

5 - SINIF

Sempatik

2. DÖNEM
1. YAZILI
PROVASI

MATEMATİK

Ünlüler
Karması

Hedefin
100
Olsun

GOLD+

SERİSİ

ile EKSİKLİKLERİNİ GİDER



Ünlüler
Karması

Çok mu Çok
SEMPATİÇİZ
Sempatik ile eksiklerini gider

Adı :
Soyadı :
Sınıfı :

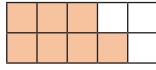
2023-2024 EĞİTİM-ÖĞRETİM YILI

2. DÖNEM
1. YAZILI

MATEMATİK

- A. Aşağıda verilen şekiller kendi içlerinde eş parçalara ayrılmış ve bu parçalardan bazıları boyanmıştır. Buna göre boyalı parçaların ifade ettiği kesirleri ondalık gösterim şeklinde yazınız ve bu ondalık gösterimlerin okunuşunu yazınız.

1.

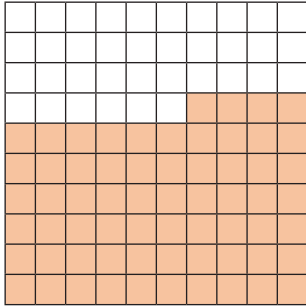


10 puan

Ondalık gösterim

Okunuşu

2.



Ondalık gösterim

Okunuşu

- B. Hücrelendirilmiş yapısı, yeni nesile geçiş testleri, beceri temelli testleri ve ünite değerlendirme testleri ile öğrencilerin severek kullandığı Sempatik Soru Bankaları'nın Sempatik Kırtasiye'deki satış fiyatları aşağıda verilmiştir.



239,45 TL



187,55 TL



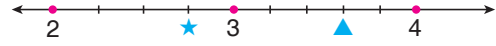
216,50 TL

500 TL ve üzeri alışverişlerde 124,75 TL indirim uygulanan bu kırtasiyeden Eymen, Sempatik Matematik, Türkçe ve Fen Bilimleri Soru Bankası'ndan birer tane almıştır.

Buna göre Eymen aldığı kitaplar için toplam kaç TL ödemiştir? 10 puan

.....

- C. Aşağıda verilen sayı doğrusunda 2 ile 3 arası 4 eş parçaya, 3 ile 4 arası 5 eş parçaya ayrılmıştır.




Buna göre sayı doğrusu üzerinde gösterilen * ve ▲ sembollerine karşılık gelen kesirleri ondalık gösterim şeklinde yazınız.

10 puan

*

▲

- D. A ve B birer doğal sayı olmak üzere Uğur Öğretmen öğrencilerinden %48 ifadesini $\frac{A}{B}$ şeklinde kesir olarak yazmalarını istemiştir.



Buna göre öğrencilerin yazacağı A ve B değerleri için A + B işleminin sonucu en az kaçtır? 5 puan

.....

- E. Aşağıda verilen boşlukları uygun şekilde doldurunuz. 10 puan

Kesir Gösterimi	Ondalık Gösterimi	Yüzdelik Gösterimi
$\frac{3}{5}$		%60
	0,64	
	0,12	%12
	0,2	
$\frac{6}{25}$		
$\frac{13}{10}$	1,3	

F.

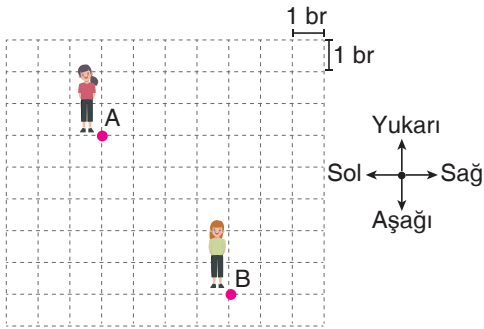
$$\frac{3}{20} < \%A < 0,64$$

Yukarıda verilen sıralamaya göre A yerine yazılabilecek **en büyük** doğal sayı ile **en küçük** doğal sayının toplamı kaçtır? **5 puan**

.....

G.

Aşağıda verilen birim kareli zemin üzerine çizilmiş krokide Aslı A noktasında, Burcu ise B noktasındadır.

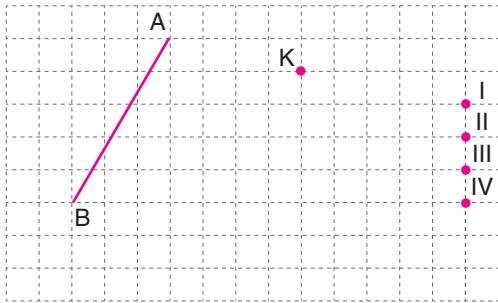


Buna göre Burcu'nun Aslı'ya göre konumunu yazınız. **10 puan**

.....

H.

Aşağıda verilen birim kareli zemin üzerine AB doğru parçası çizilmiştir.



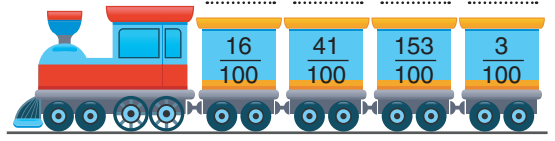
Üç noktalarından biri K noktası olan ve uzunluğu AB doğru parçasının uzunluğuna eşit olan bir doğru parçası çizilecektir.

Buna göre çizilecek olan doğru parçasının diğer uç noktası yukarıdaki noktalardan hangisidir? **10 puan**

.....

İ.

Aşağıda verilen trenin vagonlarına kesirler yazılmıştır.

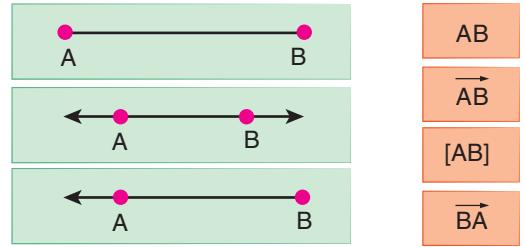


Vagonların üzerinde yazan kesirleri yüzde sembolü ile üstlerindeki boşluklara yazınız. **10 puan**

10 puan

İ.

Aşağıda verilen kartların üzerine geometrik şekiller ve geometrik şekillerin sembol ile gösterimleri yazılmıştır.



Buna göre uygun olan kartları birbiri ile eşleştiriniz. **10 puan**

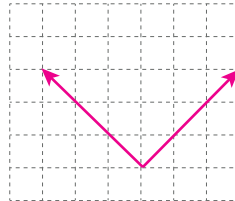
10 puan

J.

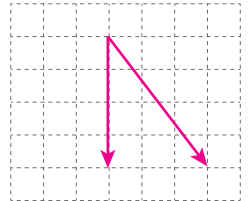
Aşağıda verilen birim kareli zeminler üzerine açılar çizilmiştir.

Bu açılarının ölçülerinin çeşidini altlarındaki kutucuklara yazınız. **10 puan**

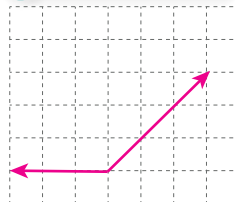
10 puan



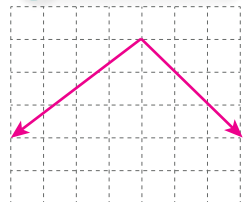
1. aç



2. aç



3. aç



4. aç

TÜRKÇE

1. İstasyon 2. Şef
3. Vagon 4. Lokomotif
1. kulp takardı. 2. el ayak çekilsin
3. bin dereden su getirerek 4. yüreği ağzına geldi.
5. oyuna getirdi.
1. Koşul-sonuç 2. Neden-sonuç
3. Amaç-sonuç 4. Amaç-sonuç
5. Koşul-sonuç
- Gül - Baş - Ağ - Ben
- Ünsüz Benzeşmesi Gelmıştır-kullanılmaktadır
Ünsüz Yumuşaması Yapıldığı - yükseklği - bulunduğu eğikliğiyle
Ünlü Düşmesi Şehrindeydir
Ünlü Daralması Bilinmiyor
- İnsan, yaşadığı dünyanın tek varisi olmadığı düşüncesiyle ve diğer canlılara karşı sorumluluk bilinciyle hareket etmelidir.
- 1, 4, 5

MATEMATİK

1. Ondalık gösterim 0,7
Okunuşu Sıfır tam onda yedi
2. Ondalık gösterim 0,64
Okunuşu Sıfır tam yüzde altmış dört
- 518,75 ★ = 2,75 / ▲ = 3,6 37
- | Kesir Gösterimi | Ondalık Gösterimi | Yüzdeler Gösterimi |
|-----------------|-------------------|--------------------|
| $\frac{3}{5}$ | 0,6 | %60 |
| $\frac{16}{25}$ | 0,64 | %64 |
| $\frac{3}{25}$ | 0,12 | %12 |
| $\frac{1}{5}$ | 0,2 | %20 |
| $\frac{6}{25}$ | 0,24 | %24 |
| $\frac{13}{10}$ | 1,3 | %130 |

- 79 5 birim aşağısının 4 birim sağında
- III %16 / %41 / %153 / %3

- A B AB
A B AB
A B [AB]
A B BĀ

1. dik 2. dar 3. geniş 4. geniş

FEN BİLİMLERİ

- Saf sıvıların kaynama noktalarının farklılığını belirlemek
- Genleşme 2, 3, 4, 7, 10 Büzülme 1, 5, 6, 8, 9
1. El fenerini basketbol topuna yaklaştırmak
2. Perdeyi basketbol topundan uzaklaştırmak
1. kutuda: Ayna, cilalanmış tahta
2. kutuda: Kırık cam, buruştu-
rulmuş folyo

- a. I. kaptaki balon ısı vererek büzülürken, II. kaptaki b a lon ısı alarak genişlemiştir.
b. II. kaptaki su > I. kaptaki su

K: Yarı saydam L: Opak M: Saydam

- II - I - IV - III
- a. b. c.

SOSYAL BİLGİLER

- Can ve mal kayıplarına neden olur.
• Köprü, otoyol ve altyapı zarar görebilir.
• Tarım alanları sular altında kalabilir.
- İnsanlar arası ilişkilere zarar verir.
• Bireylerin sosyalleşmesinin önüne geçer.
• Anlaşmazlıklara neden olur.
- Güncel olmalı
• Bilimsel kaynaklarla karşılaştırılmalı
• Güvenilir genel ağ adreslerinden alınmış olmalı
• Kanıtlanabilir olmalı
- Sabırlı olmak • Eleştirilere açık olmak
• Objektif olmak • Pes etmemek
• Kararlı olmak
- 4 / 5 / 3 / 1 / 2
- Buğday : İç Anadolu Bölgesi
Kayısı : Doğu Anadolu Bölgesi
Ayçiçeği : Marmara Bölgesi
Zeytin : Ege Bölgesi
Fındık : Karadeniz Bölgesi
- Tur rehberi • Aşçı • Garson
• Resepsiyonist • Şoför

DİN KÜLTÜRÜ VE AHLAK BİLGİSİ

- Hem dünya hem de ahiret için dua etmek gerektiği öğretilmektedir.
- Doğru sözlü ve güvenilir olmanın önemine işaret edilmektedir.
- Selamı en güzel şekilde alıp karşılık vermek gerekir.
- I. büyük II. yürüyene
III. oturana IV. çok
1. Toplum içinde gizli konuşmalar yapmak
2. Konuşurken kırıcı ve incitici tarzda konuşmak
1. Yemektan önce elleri yıkamak
2. Yemeğe besmeleyle başlamak
3. Yemeği önünden yemek
- Bir Baba Olarak Hz. Muhammed
- Tahire
- Sofra Adabı
- Bir dede olarak torunlarıyla vakit geçirmekten keyif aldığı

İNGİLİZCE

1. It's Up. 2. It's an animation.
3. It starts at half past four. 4. It is on 15th June.
1. You should see the dentist
2. You should relax. / You should drink mint and lemon tea.
3. You shouldn't drink cold water.
4. You should see the doctor
5. You should get a blanket
1. toothache 2. broken arm 3. measles
4. medicine 5. cough
1. clown 2. invitation card
3. candles 4. birthday cake
5. beverages
1. Let's watch a comedy movie.
2. The character is very brave and strong.
3. Tom has a runny nose.
4. Action movies are my favourite ones.
5. We must buy balloons for decoration.
1. e 2. d 3. c 4. b 5. a

Çok mu Çok SEMPATİĞİZ



Sempatik ile eksiklerini gider



Ünlüler
Karması