


2023 – 2024 EĞİTİM ÖĞRETİM YILI 7. SINIF FEN BİLİMLERİ 1. DÖNEM 1. ÖRNEK YAZILI SINAVI

AD SOYAD

SINIF

NUMARA

1. Uzay arařtırmalarında kullanılan aralardan bazıları numaralandırılarak ařağıdaki görselde verilmiřtir.



Görselden yararlanarak ařağıdaki soruları cevaplayınız.

- a) Hangisi uzay bořluęında laboratuvar olarak kullanılır? Numarasını yazınız. (5 puan)  
.....
- b) Hangilerinde astronotların bulunabileceęi uygun řartlar yoktur? Numaralarını yazınız. (5 puan)  
.....
- c) Hangisi Dünya ile uzay istasyonları arasında astronotların tařınmasında kullanılır? Numarasını yazınız. (5 puan)  
.....
2. Sabit teleskoplar kullanılarak uzay gözlemlerinin yapıldığı yerlere rasathane (gözlemevi) denir. Ařağıda optik teleskop kurulu bir gözlemevine ait görsel verilmiřtir.



Bu gözlemevinin kurulduęu bölgenin sahip olması gereken özelliklerden üç tanesini yazınız. (5 puan)  
.....  
.....  
.....

3. Ařağıda harflerle temsil edilen kutucuklara bir yıldızın yařam döngüsü karıřık olarak yazılmıřtır.

a

Gezenimsi bulutsu

b

Kırmızı dev

c

Küçük kütleli yıldız

d

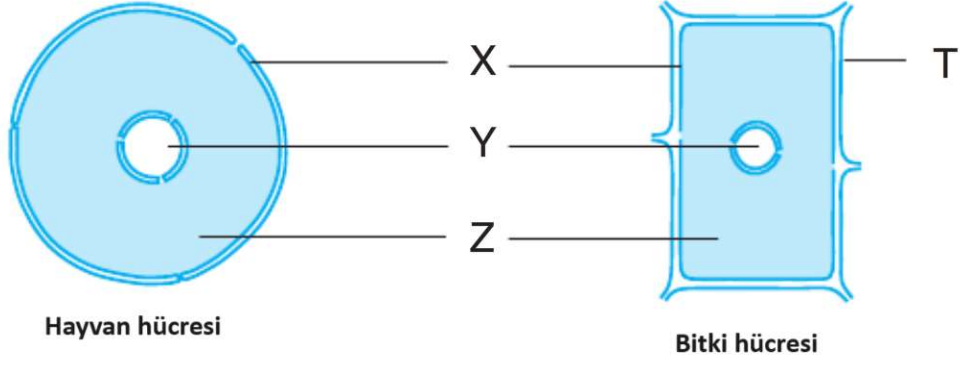
Beyaz cüce

e

Bulutsu (Nebula)

Buna göre küçük kütleli yıldızların yařam döngüsünü kutucukların harflerini kullanarak sırasıyla yazınız. (10 puan)  
.....

4. Bitki ve hayvan hücrelerine ait model üzerinde bazı yapılar harflerle gösterilmiştir.



Buna göre aşağıdaki soruları cevaplayınız.

a) Harflerle belirtilen yapıların isimlerini yazınız. (10 puan)

.....

b) Hücreyi dış ortamdan ayıran, hücreye şekil veren ve seçici geçirgen olan yapının gösterildiği harfi yazınız. (5 puan)

.....

c) Hücrede yaşamsal faaliyetleri gerçekleştiren organelerin bulunduğu yapının gösterildiği harfi yazınız. (5 puan)

.....

5. Hayvan hücresinde bulunmayıp bitki hücresinde bulunan organelle ait görsel aşağıda verilmiştir.



Buna göre aşağıdaki soruları cevaplayınız.

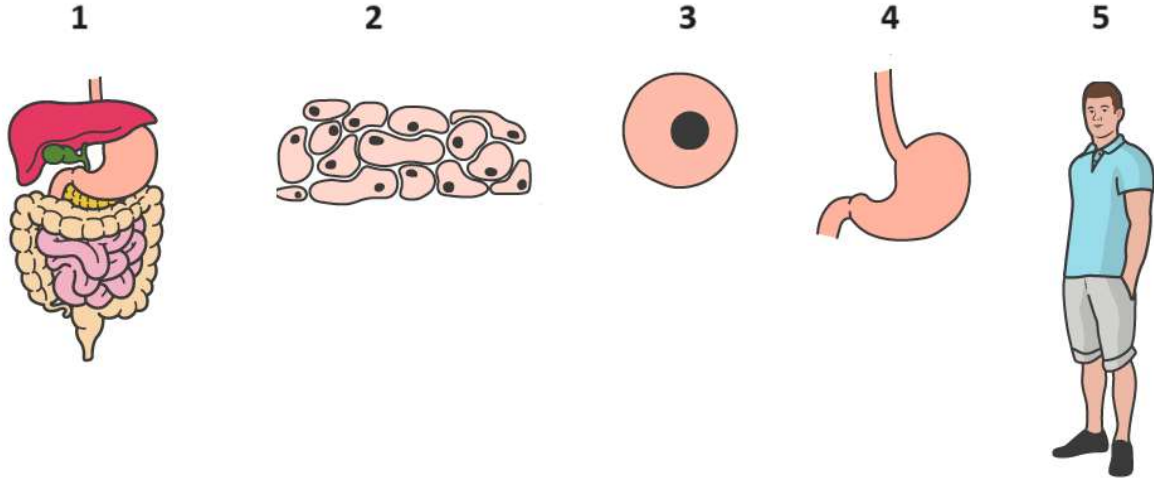
a) Bu organelin adını ve görevini yazınız. (10 puan)

.....

b) Bu organelin diğer canlılar açısından önemini açıklayınız. (5 puan)

.....

6. Vücudumuzda farklı büyüklüklere sahip yapılara ait görseller numaralandırılarak aşağıda verilmiştir.



Görsele göre aşağıdaki soruları cevaplayınız.

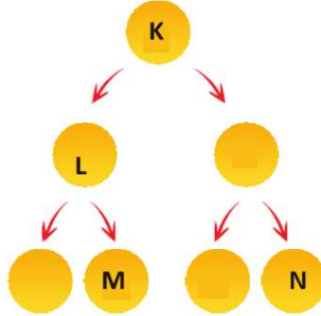
a. Görseledeki yapıların isimlerini sırasıyla yazınız. (10 puan)

.....

b. Bu yapıları basitten karmaşığa doğru sıralanmasını görsellerin numaralarını kullanarak yazınız. (5 puan)

.....

7. Bir insanın sağlıklı deri hücrelerinde gerçekleşen mitoz bölünmeleri gösteren şemada bazı hücreler K, L, M ve N olarak belirtilmiştir. (İnsanların sağlıklı vücut hücrelerinde 46 kromozom bulunur.)



Şemaya göre aşağıdaki soruları cevaplayınız.

a) Harflerle belirtilen hücreleri organel çeşitliliği bakımından karşılaştırınız. Karşılaştırmanızın gerekçesini yazınız. (5 puan)

.....

b) Harflerle belirtilen hücreleri sahip oldukları kromozom sayısı bakımından karşılaştırınız. Karşılaştırmanızın gerekçesini yazınız. (5 puan)

.....

c) Bu bölünme çeşidi insanların tüm vücut hücrelerinde gerçekleşir mi? Gerçekleşmediğini düşünüyorsanız bu duruma iki örnek hücre yazınız. (10 puan)

.....

.....


2023 – 2024 EĞİTİM ÖĞRETİM YILI 7. SINIF FEN BİLİMLERİ 1. DÖNEM 1. ÖRNEK YAZILI SINAVI

AD SOYAD

SINIF

NUMARA

1. Uzay arařtırmalarında kullanılan aralardan bazıları numaralandırılarak ařağıdaki grselde verilmiřtir.



Grselden yararlanarak ařağıdaki soruları cevaplayınız.

- a) Hangisi uzay bořluęunda laboratuvar olarak kullanılır? Numarasını yazınız. (5 puan)  
1
- b) Hangilerinde astronotların bulunabileceęi uygun řartlar yoktur? Numaralarını yazınız. (5 puan)  
3 ve 4
- c) Hangisi Dnya ile uzay istasyonları arasında astronotların tařınmasında kullanılır? Numarasını yazınız. (5 puan)  
2
2. Sabit teleskoplar kullanılarak uzay gzlemlerinin yapıldığı yerlere rasathane (gzlemevi) denir. Ařağıda optik teleskop kurulu bir gzlemevine ait grsel verilmiřtir.



Bu gzlemevinin kurulduęu blgenin sahip olması gereken zelliklerden c tanesini yazınız. (5 puan)

Bulutsuz gece sayısı fazladır.

Havadaki nem oranı dřktr.

Havadaki kirlilik ve toz oranı dřktr.

Deprem kuřaklarından uzaktır.

3. Ařağıda harflerle temsil edilen kutucuklara bir yıldıznın yařam dngs karıřık olarak yazılmıřtır.

a

Gezenimsi bulutsu

b

Kırmızı dev

c

Kck ktleli yıldızn

d

Beyaz cce

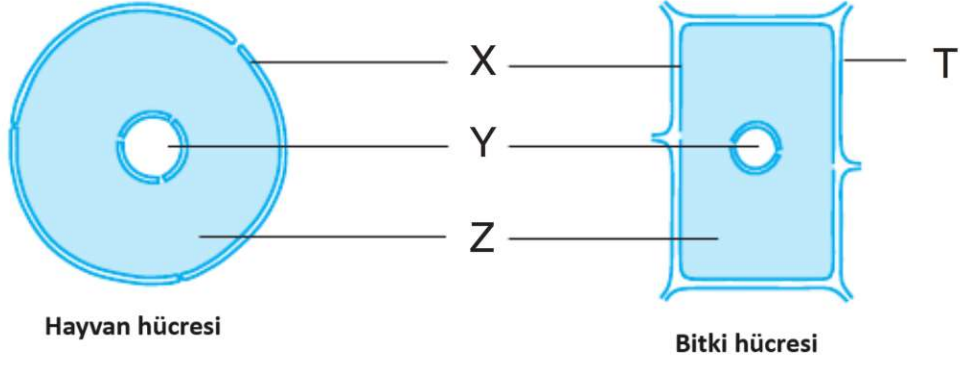
e

Bulutsu (Nebula)

Buna gre kck ktleli yıldıznların yařam dngsn kutucukların harflerini kullanarak sırasıyla yazınız. (10 puan)

e, c, b, a, d

4. Bitki ve hayvan hücrelerine ait model üzerinde bazı yapılar harflerle gösterilmiştir.



Buna göre aşağıdaki soruları cevaplayınız.

a) Harflerle belirtilen yapıların isimlerini yazınız. (10 puan)

X: Hücre zarı Y: Çekirdek Z: Sitoplazma T: Hücre duvarı

b) Hücreyi dış ortamdan ayıran, hücreye şekil veren ve seçici geçirgen olan yapının gösterildiği harfi yazınız. (5 puan)

X

c) Hücrede yaşamsal faaliyetleri gerçekleştiren organelerin bulunduğu yapının gösterildiği harfi yazınız. (5 puan)

Z

5. Hayvan hücresinde bulunmayıp bitki hücresinde bulunan organelle ait görsel aşağıda verilmiştir.



Buna göre aşağıdaki soruları cevaplayınız.

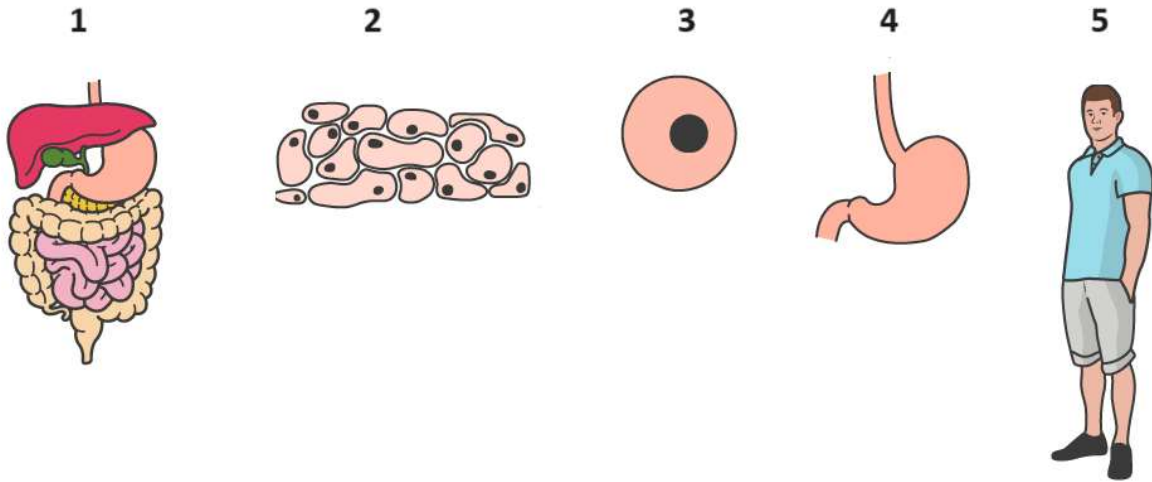
a) Bu organelin adını ve görevini yazınız. (10 puan)

Kloroplast. Bitkiler kloroplast organeli ile besin ve oksijen üretirler.

b) Bu organelin diğer canlılar açısından önemini açıklayınız. (5 puan)

Hücrenin ihtiyacı olan besini ürettiği için hücre açısından başka canlılara ihtiyaç duymaz. Ayrıca ürettiği oksijen sayesinde bitkiler ve diğer canlıların oksijen ihtiyacının karşılanmasını sağlarlar.

6. Vücudumuzda farklı büyüklüklere sahip yapılara ait görseller numaralandırılarak aşağıda verilmiştir.



Görsele göre aşağıdaki soruları cevaplayınız.

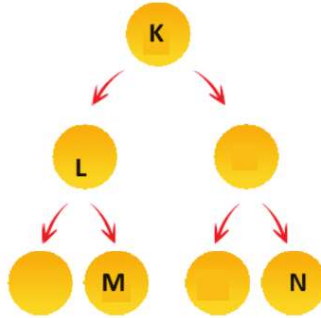
a. Görseldeki yapıların isimlerini sırasıyla yazınız. (10 puan)

1. Sistem 2. Doku 3. Hücre 4. Organ 5. Organizma

b. Bu yapıları basitten karmaşığa doğru sıralanmasını görsellerin numaralarını kullanarak yazınız. (5 puan)

3, 2, 4, 1, 5

7. Bir insanın sağlıklı deri hücrelerinde gerçekleşen mitoz bölünmeleri gösteren şemada bazı hücreler K, L, M ve N olarak belirtilmiştir. (İnsanların sağlıklı vücut hücrelerinde 46 kromozom bulunur.)



Şemaya göre aşağıdaki soruları cevaplayınız.

a) Harflerle belirtilen hücreleri organel çeşitliliği bakımından karşılaştırınız. Karşılaştırmanın gerekçesini yazınız. (5 puan)

Harflerle belirtilen hücrelerin tamamının sahip olduğu organel çeşidi aynıdır. Çünkü mitoz bölünmede kalıtsal yapı değişmez. Birbiriyle aynı yapıda hücreler oluşur.

b) Harflerle belirtilen hücreleri sahip oldukları kromozom sayısı bakımından karşılaştırınız. Karşılaştırmanın gerekçesini yazınız. (5 puan)

Harflerle belirtilen hücrelerin tamamının sahip olduğu kromozom sayısı 46'dır. Çünkü mitoz bölünmede kromozom sayısı sabit kalır.

c) Bu bölünme çeşidi insanların tüm vücut hücrelerinde gerçekleşir mi? Gerçekleşmediğini düşünüyorsanız bu duruma iki örnek hücre yazınız. (10 puan)

İnsanlarda; sinir, kan (alyuvar, akyuvar, kan pulcukları), yumurta, sperm, gözdeki retina, çizgili kas hücreleri bölünme yeteneğini kaybetmiştir.

(Bu cevaplardan herhangi ikisi yazılmışsa doğru kabul edilir.)