

2023 - 2024 EĞİTİM ÖĞRETİM YILI ORTAOKULU
6. SINIF SOSYAL BİLGİLER DERSİ 1. DÖNEM 2. YAZILI SINAVI

Adı Soyadı :

Numarası :

Senaryo 1

Sınıfı : 6 /.....

Not :



1. 6. sınıf öğrencisi Arda kitap okurken daha rahat edebilmek için ailesine bir masa lambası aldırılmıştır. Lambayı birkaç gün kullandıktan sonra bozulduğunu görmüştür.

Bu durumda Arda karşılaştığı sorunu haklarının bilincinde olan bir birey olarak nasıl çözümlemesi doğru olur aşağıya yazınız.

Cevap:

2. - Orta Asya'da kurulan ilk Türk devletidir.
- Çinliler bu dönemde Türk akınlarından korunmak için Çin Seddi'ni yapmışlardır.

Özellikleri verilen Türk devletini aşağıya yazınız.

Cevap:

3. Hz. Muhammed'in ölümünden sonra devlet yöneticileri dönemin şartlarına uygun seçimlerle iş başına gelmişlerdir. Bu dönemde halifelik yapan Hz. Osman döneminde ilk İslam donanması oluşturulmuştur.

Buna göre Hz. Osman döneminde meydana gelen bu olayın hangi alanda bir yenilik olduğunu aşağıya yazınız.

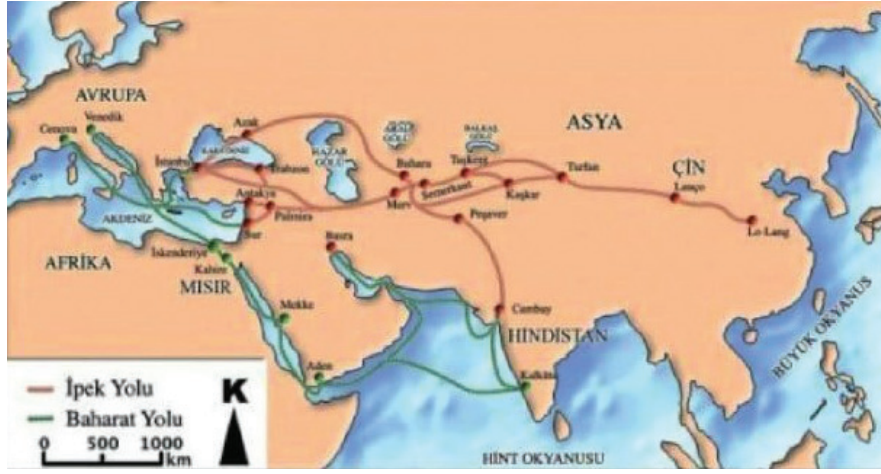
Cevap:

4. Tuğrul Bey, Dandanakan Savaşı sonrasında toplanan kurultayda eline aldığı bir oku ağabeyi Çağrı Beye vererek kırmasını ister. Çağrı Bey bu tek oku rahatça kırar. Ok sayısı üçe çıkınca kırmakta zorlanır. Ok sayısı dörde çıkarınca kıramaz. Bu olayın ardından Tuğrul Bey, "Bu oklar gibi olursak her daim milletimiz var olur." der.

Buna göre Tuğrul Bey'in vurgulamaya çalıştığı düşünceyi aşağıya yazınız.

Cevap:

5.

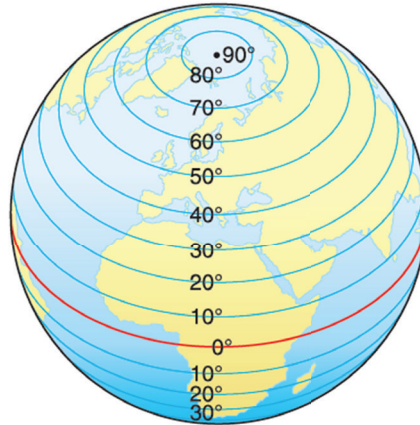


Tarihi İpek ve Baharat yolları geçtiği güzergâhta bulunan ülkeler için her zaman cazibe kaynağı olmuştur. Devletler bu ticaret yollarının hâkimiyetini ellerinde tutabilmek için birbirleriyle sürekli mücadele etmişlerdir.

Bu ticaret yollarına hakim olmak istenmesinin nedenini aşağıya yazınız.

Cevap:

6.



Paralellerin özelliklerinden 4 tanesini aşağıya yazınız.

Cevap:

2023 - 2024 EĞİTİM ÖĞRETİM YILI ORTAOKULU
6. SINIF SOSYAL BİLGİLER DERSİ 1. DÖNEM 2. YAZILI SINAVI

Adı Soyadı :

Numarası :

Senaryo 1

Sınıfı : 6 /.....

Not :



1. 6. sınıf öğrencisi Arda kitap okurken daha rahat edebilmek için ailesine bir masa lambası aldırılmıştır. Lambayı birkaç gün kullandıktan sonra bozulduğunu görmüştür.

Bu durumda Arda karşılaştığı sorunu haklarının bilincinde olan bir birey olarak nasıl çözümlemesi doğru olur aşağıya yazınız.

Cevap:

Lambayı fiş ya da faturasıyla birlikte aldıkları yere götürerek yaşadığı sorunun çözülmesini talep eder. Sorun çözülmezse Tüketici haklarına fiş ya da faturasıyla birlikte başvurur.

2. - Orta Asya'da kurulan ilk Türk devletidir.
- Çinliler bu dönemde Türk akınlarından korunmak için Çin Seddi'ni yapmışlardır.

Özellikleri verilen Türk devletini aşağıya yazınız.

Cevap:

Hunlar

3. Hz. Muhammed'in ölümünden sonra devlet yöneticileri dönemin şartlarına uygun seçimlerle iş başına gelmişlerdir. Bu dönemde halifelik yapan Hz. Osman döneminde ilk İslam donanması oluşturulmuştur.

Buna göre Hz. Osman döneminde meydana gelen bu olayın hangi alanda bir yenilik olduğunu aşağıya yazınız.

Cevap:

Denizcilik

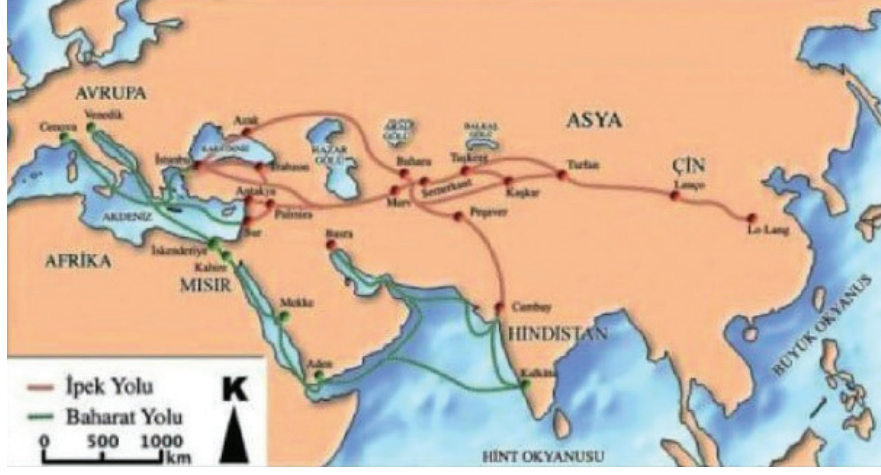
4. Tuğrul Bey, Dandanakan Savaşı sonrasında toplanan kurultayda eline aldığı bir oku ağabeyi Çağrı Bey'e vererek kırmasını ister. Çağrı Bey bu tek oku rahatça kırar. Ok sayısı üçe çıkınca kırmakta zorlanır. Ok sayısı dörde çıkarınca kıramaz. Bu olayın ardından Tuğrul Bey, "Bu oklar gibi olursak her daim milletimiz var olur." der.

Buna göre Tuğrul Bey'in vurgulamaya çalıştığı düşünceyi aşağıya yazınız.

Cevap:

Birlik ve beraberlik

5.



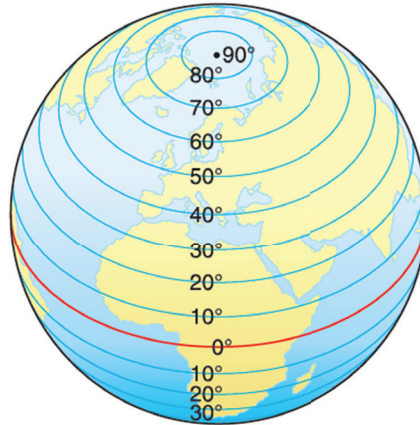
Tarihi İpek ve Baharat yolları geçtiği güzergâhta bulunan ülkeler için her zaman cazibe kaynağı olmuştur. Devletler bu ticaret yollarının hâkimiyetini ellerinde tutabilmek için birbirleriyle sürekli mücadele etmişlerdir.

Bu ticaret yollarına hakim olmak istenmesinin nedenini aşağıya yazınız.

Cevap:

Ekonomik kazanç elde etmek

6.



Paralellerin özelliklerinden 4 tanesini aşağıya yazınız.

Cevap:

- Ekvatorun kuzeyinde kalan kısmına Kuzey Yarım Küre, güneyindeki kısmına ise Güney Yarım Küre adı verilir.
- En geniş olanı Ekvatordur.
- Kutuplara gidildikçe boyları küçülür.
- 90 tanesi Kuzey Yarım Küre'de, 90 tanesi de Güney Yarım Küre'de olmak üzere 180 tane paralel vardır.